

**COLÉGIO MARQUES RODRIGUES**Estrada da Água Branca, 2551 – Realengo – RJ  
Tel: (21) 3462-7520 – www.colegiomr.com.br**Questão 1:**

Marque com um **X** as atitudes corretas de quem cuida do meio ambiente.

**Questão 2:**

Quando o homem desmata as florestas ele contribui para? Marque.

- O aquecimento do planeta.  
 A boa saúde no planeta.

**Questão 3:**

Escreva os fenômenos que causam as mudanças climáticas.

\_\_\_\_\_, \_\_\_\_\_, \_\_\_\_\_, \_\_\_\_\_ e  
\_\_\_\_\_.

**Questão 4:**

As estações do ano são divididas em quantas partes? Circule.

3 partes

2 partes

4 partes

**Questão 5:**

Escreva os meses das estações do ano:

\_\_\_\_\_ , \_\_\_\_\_ , \_\_\_\_\_ e \_\_\_\_\_

**Questão 6:**

Complete:

a) A primavera é a estação das \_\_\_\_\_


b) No outono temos muitas \_\_\_\_\_ e folhas \_\_\_\_\_.

c) A estação mais quente é a \_\_\_\_\_

d) A estação que estamos agora é \_\_\_\_\_

**Questão 7:**

Veja cada imagem e identifique as estações.





**Questão 8:**

Marque **C** para correto e **E** para errado.

- Deve rabiscar paredes e muros.
- Juntar lixo nas ruas e praças é bom para o meio ambiente.
- Cuidar das plantas e animais ajuda na preservação da natureza.
- O lixo que jogamos no chão polui o solo.

**Questão 9:**


Pinte as árvores frutíferas e envolvas as árvores não frutíferas



**Questão 10:**

Circule o tema de CIPA que você estudou.

Choque



Quedas



Sufocamento



Objetos cortantes





**Questão 11:**

Os seres vivos são aqueles que nascem, \_\_\_\_\_ se reproduzem e \_\_\_\_\_.

**Questão 12:**

Circule os seres vivos que vivem na água.



**Questão 13:**

Pinte a criança que usa o ar para brincar.



**Questão 13:**

Os elementos da natureza que não tem vida são:


\_\_\_\_\_, \_\_\_\_\_, \_\_\_\_\_,  
\_\_\_\_\_, e as \_\_\_\_\_.

**Questão 14:**

Como são chamados os seres que não tem vida? \_\_\_\_\_

**Questão 15:**

Desenhe um elemento que foi criado pelo homem e que não tem vida.



**Questão 16:**

Qual o nome do elemento que você desenhou, na questão acima?

\_\_\_\_\_.



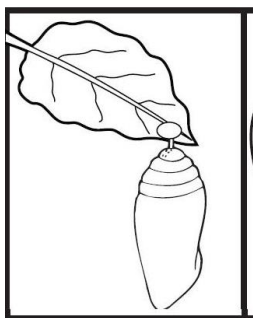
**Questão 17:**

Mônica e Magali estão segurando um material. Este material é um ser vivo? \_\_\_\_\_



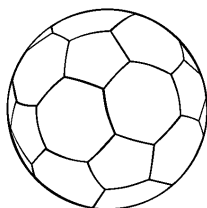
**Questão 18:**

Enumere o ciclo de vida de uma mariposa.



**Questão 19:**

Qual destes recursos da natureza podemos nos alimentar? Pinte:



**Questão 20:**

Desenhe um meio de transporte da natureza que você gosta.

